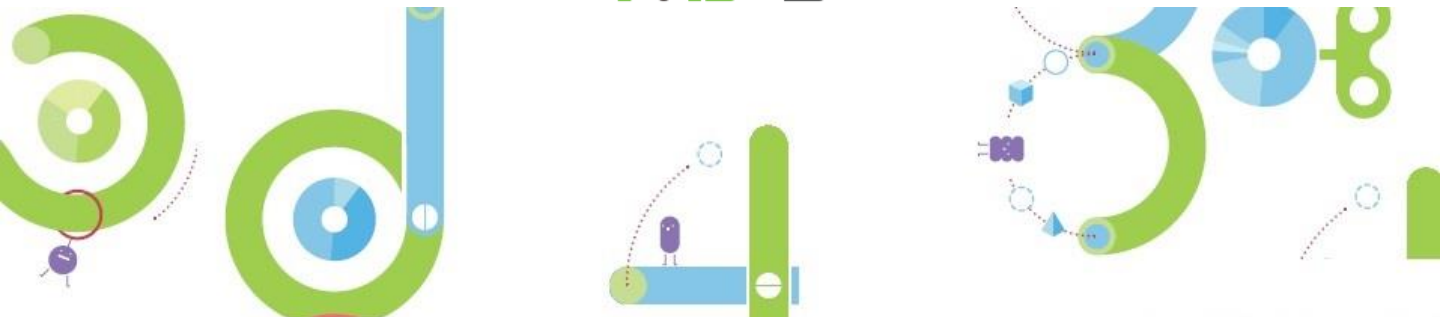


# 사고세 망

## 초등1 기초 사고력 연산 평가

NE | **나비아이**



# 초등1 사고력 연산 평가

## 기초연산 (1개 5점)

[ 1 ~ 4 ] 다음을 계산하시오.

1  $4 + 9$

2  $8 + 7$

3  $6 + 3 + 3$

4  $5 + 6 - 8$

[ 5 ~ 7 ] □ 안에 알맞은 수를 써넣으시오.

5  $3 + 2 + \square = 13$

6  $8 + \square + 7 = 18$

7  $\square - 8 - 1 = 5$

8 □ 안에 공통으로 들어갈 수를 구하시오.

$$4 + \square = 13$$

$$13 - \square = 4$$

9 세 수의 합을 구하시오.

3      6      7

10 연필 15자루 중에서 7자루를 친구에게 주었다면 남은 연필은 몇 자루입니까?

$$\square - \square = \square \text{ (자루)}$$

11 수를 세어 숫자로 써 보시오.



12 모두 얼마입니까?



13 가장 큰 수부터 차례로 쓰시오.

65    57    68    52

[14 ~ 15] 빈 곳에 알맞은 수를 써넣으시오.

14 747보다 10 큰 수 →

15 133보다 100 작은 수 →

[16 ~ 19] 다음을 계산하시오.

16  $36 + 3$

17  $21 + 35$

18  $28 - 6$

19  $69 - 28$

20 □ 안에 알맞은 수를 써넣으시오.

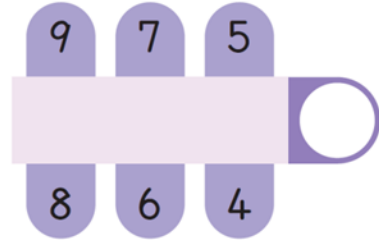
$$\left\{ \begin{array}{l} 13 + 24 = \square \\ 24 + 13 = \square \\ 37 - 13 = \square \\ 37 - 24 = \square \end{array} \right.$$

**사고력연산** (1개 10점)

1 고리 안의 수가 합이 되는 두 수를 찾아 색칠하시오.



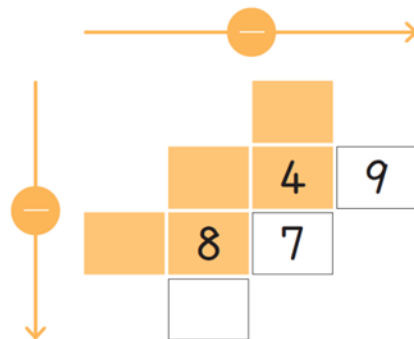
2 이어진 두 수의 합이 같도록 선을 긋고 ○에 합을 써넣으시오.



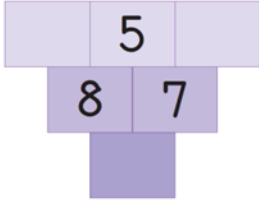
3 같은 모양은 같은 수, 다른 모양은 다른 수를 나타내고, 수는 각 줄의 합입니다. 빈칸을 채우시오.

			10
			4
6	7		

4 위에서 아래로, 왼쪽에서 오른쪽으로 뺄셈을 하여 빈칸에 알맞은 수를 써넣으시오.



5 아래의 수는 위 두 수의 차입니다. 빈칸에 알맞은 수를 써넣으시오.



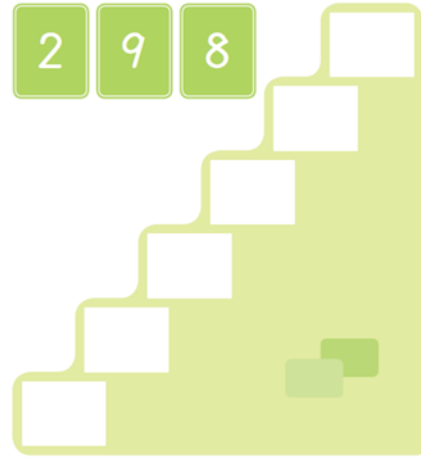
6금액을 보고 동전의 개수에 맞게 50, 10, 5, 1을 알맞게 써넣으시오.



7합이 같도록 두 수를 선으로 잇고, 합을 쓰시오.



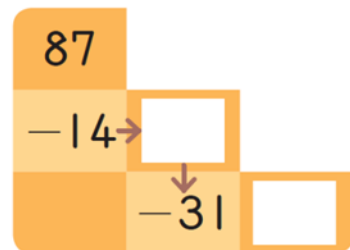
8숫자 카드를 한 번씩 사용하여 만든 두 자리 수를 작은 수부터 밑에서부터 쓰시오.



9 빈칸에 알맞은 수를 써넣으시오.

33	46
20	<input type="text"/>

10 빈칸에 알맞은 수를 써넣으시오.



# 초등1 사고력 연산 평가 정답

## 기초연산 (1개 5점)

[ 1 ~ 4 ] 다음을 계산하시오.

1  $4 + 9 = 13$

①

2  $8 + 7 = 15$

①

3  $6 + 3 + 3 = 12$

①

4  $5 + 6 - 8 = 3$

②

[ 5 ~ 7 ] □ 안에 알맞은 수를 써넣으시오.

5  $3 + 2 + \boxed{8} = 13$

①

6  $8 + \boxed{3} + 7 = 18$

①

7  $\boxed{14} - 8 - 1 = 5$

②

8 □ 안에 공통으로 들어갈 수를 구하시오.

②

9

$$4 + \square = 13$$

$$13 - \square = 4$$

9 세 수의 합을 구하시오. 16

②

3      6      7

10 연필 15자루 중에서 7자루를 친구에게 주었다면 남은 연필은 몇 자루입니까?

②

$$\boxed{15} - \boxed{7} = \boxed{8} \text{ (자루)}$$

11 수를 세어 숫자로 써 보시오. 25

③



12 모두 얼마입니까? 87원

③



13 가장 큰 수부터 차례로 쓰시오.

③

68, 65, 57, 52

65    57    68    52

[14 ~ 15] 빈 곳에 알맞은 수를 써넣으시오.

14 747보다 10 큰 수 → 757

③

15 133보다 100 작은 수 → 33

③

[16 ~ 19] 다음을 계산하시오.

16  $36 + 3 = 39$

4

17  $21 + 35 = 56$

4

18  $28 - 6 = 22$

4

19  $69 - 28 = 41$

4

20 □ 안에 알맞은 수를 써넣으시오.

4

$$\left\{ \begin{array}{l} 13 + 24 = \boxed{37} \\ 24 + 13 = \boxed{37} \\ 37 - 13 = \boxed{24} \\ 37 - 24 = \boxed{13} \end{array} \right.$$

**사고력연산** (1개 10점)

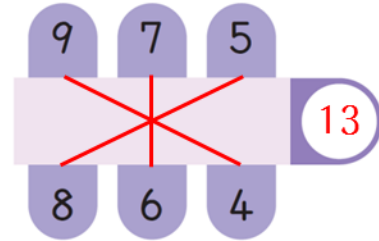
1 고리 안의 수가 합이 되는 두 수를

① 찾아 색칠하시오.



2 이어진 두 수의 합이 같도록 선을 긋고

① ○에 합을 써넣으시오.



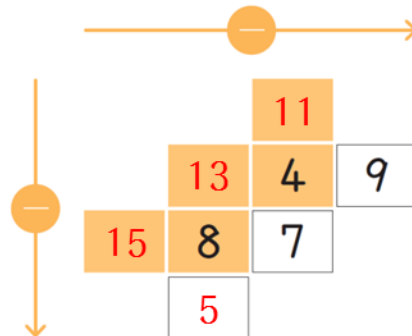
3 같은 모양은 같은 수, 다른 모양은

① 다른 수를 나타내고, 수는 각 줄의 합입니다. 빈칸을 채우시오.

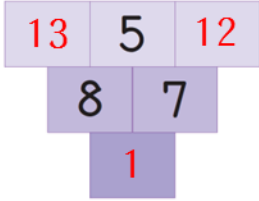
			10
			5
			4
6	7	6	

4 위에서 아래로, 왼쪽에서 오른쪽으로

② 뺄셈을 하여 빈칸에 알맞은 수를 써넣으시오.



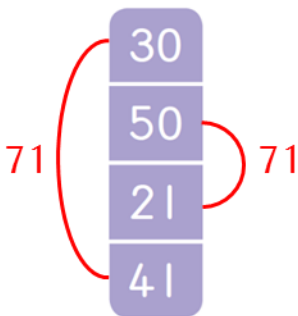
- 5 아래의 수는 위 두 수의 차입니다. 빈칸에 알맞은 수를 써넣으시오.




- 6금액을 보고 동전의 개수에 맞게 50, 10, 5, 1을 알맞게 써넣으시오.



- 7합이 같도록 두 수를 선으로 잇고, 합을 쓰시오.



- 8숫자 카드를 한 번씩 사용하여 만든 두 자리 수를 작은 수부터 밑에서부터 쓰시오.



- 9빈칸에 알맞은 수를 써넣으시오.

33	46
20	59

- 10빈칸에 알맞은 수를 써넣으시오.

